



1. A Lebre de Março (personagem de "Alice no País das Maravilhas") mente sempre de segunda a quarta-feira e diz a verdade nos restantes dias da semana. Um dia encontrou a Alice e disse-lhe: "Menti ontem e mentirei amanhã."

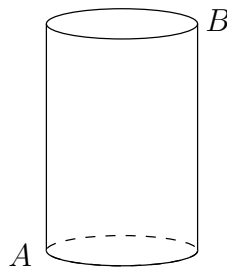
Em que dia da semana poderá a Lebre de Março ter feito esta afirmação?

2. Seja m um inteiro positivo tal que $\text{m.d.c.}(m, 35) > 10$. Qual das seguintes afirmações é verdadeira?

- (A) m tem pelo menos 3 dígitos; (B) m tem que ser múltiplo de 35;
(C) m tem que ser divisível por 15; (D) m tem que ser divisível por 25;
(E) m é divisível por 5 ou por 7 mas não por ambos.

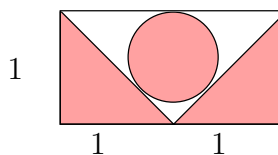
3. Desenha-se um triângulo equilátero CDE exterior ao quadrado $ABCD$. Quanto mede o ângulo $\angle ACE$?

4. O cilindro da figura tem raio 1 e altura 6. Uma formiga vai do ponto A ao ponto B , pela superfície do cilindro. Qual é o comprimento do caminho mais curto?



5. Os lados do triângulo $\triangle ABC$ medem 3, 4 e 5. Classifica o triângulo dado quanto aos ângulos. Justifica.

6. Qual é a área da região sombreada?

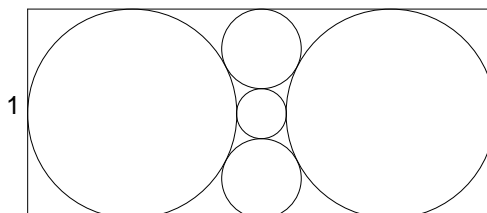


7. Uma capicua é um número inteiro positivo que permanece igual se invertermos a ordem dos seus dígitos. Por exemplo, o número 23432 é uma capicua. Considera todas as capicuas escritas por ordem crescente. Que valores primos podem tomar as diferenças entre capicuas sucessivas?

8. Se $\log_2 10 = t$, quanto é $\log_{10} 2$ em termos de t ?



9. Quantos inteiros têm a seguinte propriedade: "O seu maior divisor diferente do próprio número, é 91."
10. Qual é comprimento do lado maior do rectângulo da figura?



11. Os números inteiros positivos x e y não têm divisores comuns maiores que 1 e satisfazem a propriedade $xy = 30$. Qual é o menor valor possível de $x + y$?
12. Quantos pares de dígitos de entre os seguintes: 00, 11, 22, ..., 88, 99 são os últimos dígitos de um quadrado perfeito?
13. Escolhe-se ao acaso um número de 3 dígitos. Qual é a probabilidade de este número ser par e maior que 399?
14. Um polígono regular de n lados tem $6n$ diagonais (uma diagonal é um segmento que une dois vértices não consecutivos). Qual é o valor de n ?
15. Dez amigos num acampamento de Verão querem jogar voleibol. De quantas maneiras podem repartir-se em duas equipas de 5 jogadores cada uma, se de entre os 10 o Marco quer jogar com o Carlos e o Vítor quer jogar com o André?
16. Dado um triângulo $\triangle ABC$ qualquer, determina o rectângulo inscrito que tem um lado sobre $[AB]$ e cuja diagonal é mínima.
17. No final da primeira volta de um grupo da Liga dos Campeões, cada equipa jogou contra cada uma das outras exactamente uma vez e a classificação foi: $A - 7$ pontos; $B - 4$ pontos; $C - 3$ pontos; $D - 3$ pontos. (Cada vitória vale 3 pontos e cada empate vale 1 ponto.) Qual foi o resultado do jogo de A contra D ?
- (A) Ganhou A ; (B) Empataram;
(C) Depende do resultado do jogo de A contra B ; (D) Ganhou D ;
(E) Depende do resultado do jogo de A contra C .
18. Mostra que existe uma única função f , de \mathbb{N} em \mathbb{N} ($\mathbb{N} = 1, 2, 3, \dots$), que verifica

$$f(a + b)f(a - b) = f(a^2),$$

para quaisquer $a, b \in \mathbb{N}$ tais que $a > b$.